

CONCURSUL ȘCOLAR DE GEOGRAFIE ETAPA NAȚIONALĂ, 16-21 APRILIE 2011, TIMIȘOARA PROBA PRACTICĂ CLASA A X-A

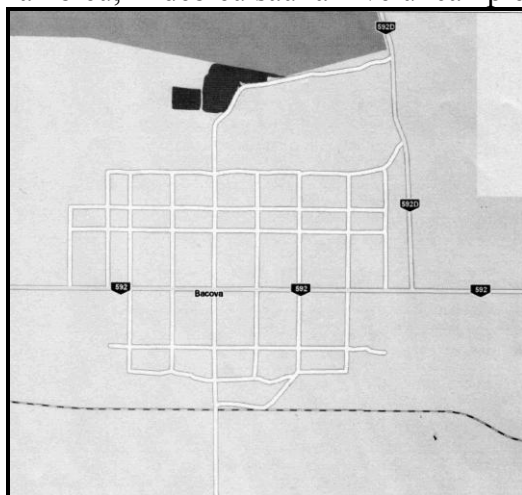
- Toate subiectele sunt obligatorii
- Se acordă 10 puncte din oficiu
- Timpul efectiv de lucru este de 90 minute

I. Precizați principalele două tipuri genetice de câmpii din județul Timiș și modul lor de utilizare a terenurilor.

10 puncte

II. Precizați caracteristicile satului Bacova referitoare la:

- tipul structural
- tipul de case predominant și factorii care l-au determinat
- utilizarea terenurilor
- construcția șoselei (în rambleu, în debleu sau la nivelul câmpiei) și explicați de ce



15 puncte

III. 1. a. Reprezentați grafic evoluția numerică a populației Timișoarei, conform datelor din tabelul de mai jos.

An	1900	1930	1941	1956	1966	1977	1992	2002	2009
Nr. locuitori	53.033	102.390	125.052	142.257	174.243	269.353	334.115	317.660	311.586

b. Interpretați graficul rezultat.

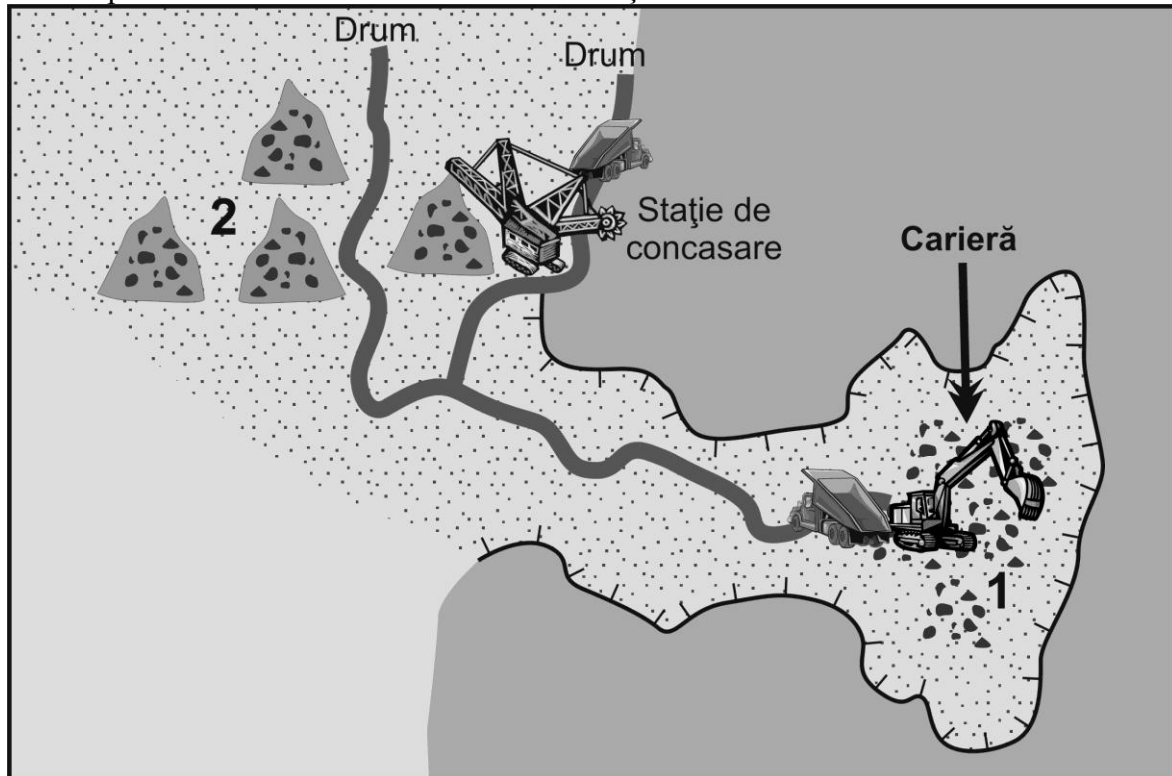
2. a. Interpretați evoluția numerică pentru români, germani și maghiari, conform tabelului de mai jos, precizând și cauzele acestei evoluții pentru fiecare perioadă.

Anul	Populația	Români	Germani	Maghiari	Sârbi	Evrei
1930	102.390	25.207	33.162	31.773	2.237	7.264
1956	142.257	75.855	24.326	29.968	3.065	6.700
1966	174.243	109.100	25.058	31.016	4.188	2.590
1977	269.353	191.742	28.429	36.724	6.776	1.629
1992	334.115	274.511	13.206	31.785	7.748	549
2002	317.660	271.677	7.157	24.287	6.311	367

30 puncte

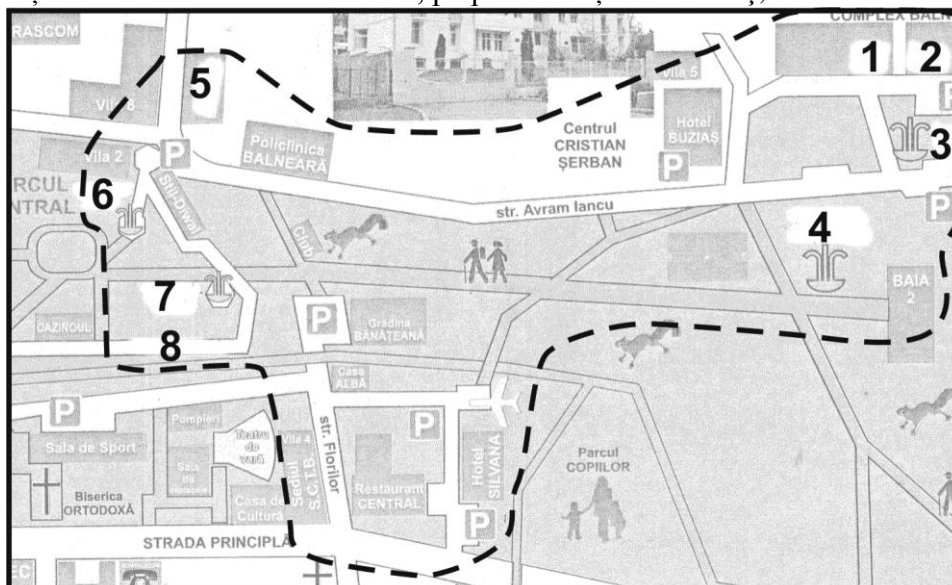
IV. În schița de hartă alăturată este reprezentată cariera de la Șanovița. Precizați:

- localizarea geografică
- tipul de rocă exploatăată
- prelucrarea primară
- folosirea materialelor rezultate din prelucrarea primară
- ce reprezintă elementele marcate cu cifrele 1 și 2



15 puncte

V. Nominalizați obiectivele turistice marcate, pe planul stațiunii Buziaș, cu cifre de la 1 la 8.



20 puncte